

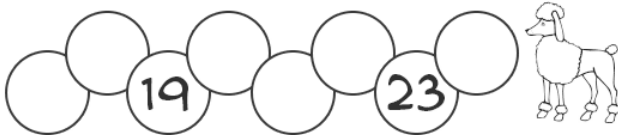


¡Felices Pascuas de Resurrección!

Semana del 13 al 17 de abril
Actividades de MATEMATICA
2º Grado CON ADAPTACIONES



MATEMÁTICA


1.- Completar con los números que faltan.



2.- iA pintar y después escribir 2 renglones de cada uno!



DIEZ



VEINTE



TREINTA



CUARENTA

10.....
.....


20.....




30.....

40.....

3.- Contar y marcar el número correcto.



21 19 18 17



27 25 20 21



33 26 36 35

4.- UNIDADES Y DECENAS. Mirar los ejemplos y hacer lo mismo con los siguientes números: 15 – 35 -29 – 19 – 25 - 37 – 18 – 39 – 33 – 22 -

DECENA	UNIDAD
1	0

DECENA	UNIDAD
2	0


DECENA	UNIDAD




DECENA	UNIDAD
4	0

5.- Completar series numéricas.

29				25		
----	--	--	--	----	--	--




10		30	
----	--	----	--



5		15			30		
---	--	----	--	--	----	--	--

6.-





RODEA EL NÚMERO MAYOR DE CADA PAREJA:

15 - 7	10 - 20	12 - 8
1 - 16	9 - 19	11 - 12
14 - 18	16 - 6	13 - 17
5 - 13	15 - 18	11 - 19

ORDENA LOS NÚMEROS DE MENOR A MAYOR:

8 - 13 - 16 - 5 - 19 - 11

..... < < < < <

20 - 14 - 10 - 9 - 3 - 15

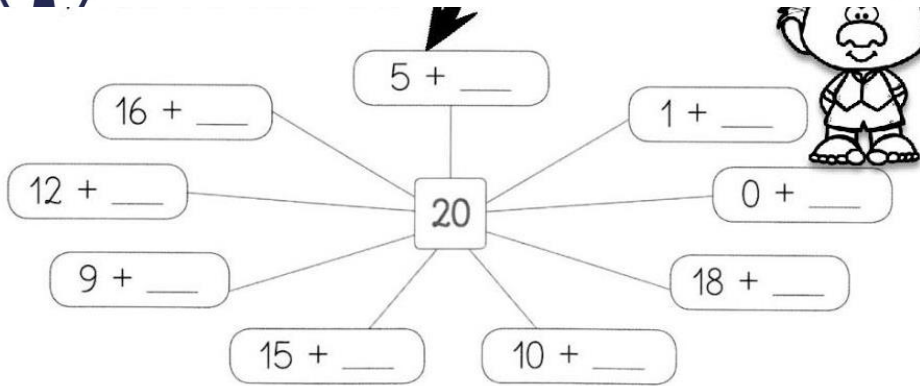
..... < < < < <

7.- ¡A sumar y restar!

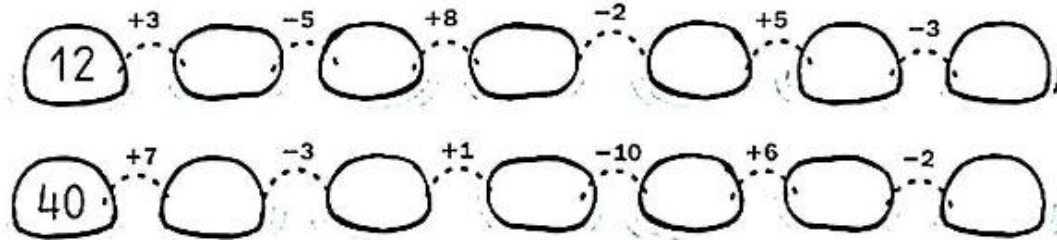
$10 + \underline{\quad} = 12$	$10 + \underline{\quad} = 17$	$10 + \underline{\quad} = 15$	$10 + \underline{\quad} = 18$
$12 - 2 = \underline{\quad}$	$17 - 7 = \underline{\quad}$	$15 - 5 = \underline{\quad}$	$18 - 8 = \underline{\quad}$
$2 + \underline{\quad} = 12$	$7 + \underline{\quad} = 17$	$5 + \underline{\quad} = 15$	$8 + \underline{\quad} = 18$
$12 - 10 = \underline{\quad}$	$17 - 10 = \underline{\quad}$	$15 - 10 = \underline{\quad}$	$18 - 10 = \underline{\quad}$

Completar hasta llegar a 20





Continúa las series, sumando o restando según se indica



Ubicar las sumas y restas en la casita de unidad y decena y resolver.

- 14 + 22 =
- 16 + 23 =
- 20 + 20 =

- 39 - 17 =
- 36 - 24 =
- 38 - 23 =

