

# Bienvenidos al Área de Matemática

## 2º Grado

Docentes: Rosario Arce email: [deolinda.arce@colegiosanluisrey.edu.ar](mailto:deolinda.arce@colegiosanluisrey.edu.ar)

Patricia Ramírez: [patricia.ramirez@colegiosanluisrey.edu.ar](mailto:patricia.ramirez@colegiosanluisrey.edu.ar)

Rubén Pérez: [ernesto.perez@colegiosanluisrey.edu.ar](mailto:ernesto.perez@colegiosanluisrey.edu.ar)

### Trabajo Práctico Nº 1

- Debes enviar las actividades resueltas al correo de tu seño o profe. Puedes mandar un poco cada día para que puedan visar tu trabajo. Tendrás tiempo de completarlas hasta el viernes 20 de marzo a las 18:00Hs.
- Está atento al correo para recibir las correcciones de tus maestros.
- Desde el día 25 estarán disponibles las actividades para la próxima semana.
- Recuerda poner tus datos completos, tanto en las hojas de actividades como al enviar los correos: Nombre y apellido- Grado- División- Área

## Trabajo practico

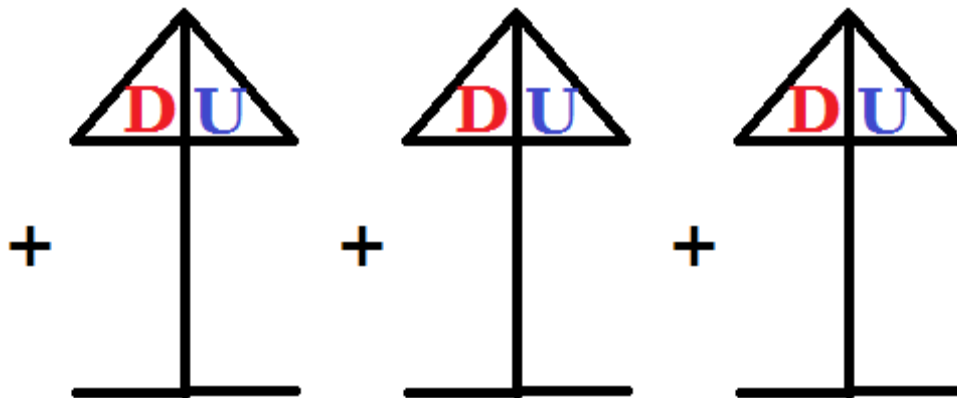
Grado: 2° “

Área: Matemática

### 1-Sumas y restas: (Operaciones Básicas).

Ordeno y resuelvo:

$$42 + 18 = \quad 10 + 5 + 22 = \quad 34 + 2 + 12 =$$

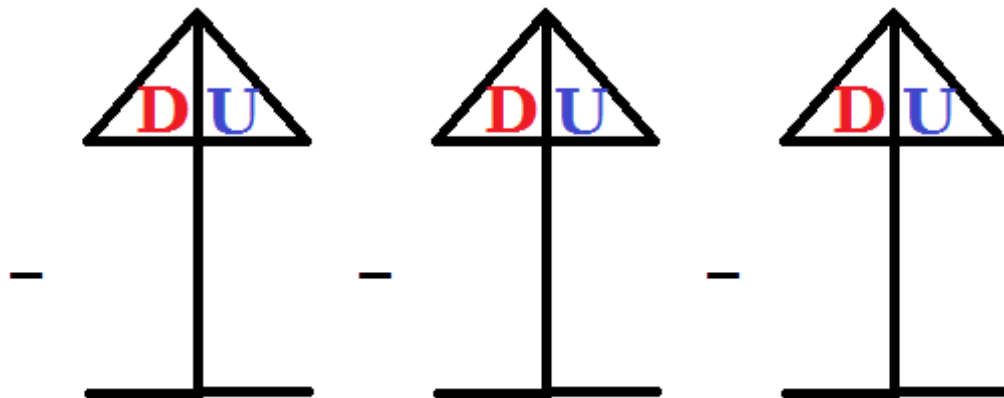




$68 - 42 =$

$69 - 13 =$

$56 - 44 =$



## 2-Situaciones Problemáticas.

a- María tiene 15 naranjas y le regala 6 a Luis  
¿Cuántas naranjas le quedan a María?.

b- Luis tiene 20 autitos y Pedro le regalo 8 más.  
¿Cuántos autitos tiene ahora Luis?

## Más situaciones Problemáticas:

María tiene 3 caramelos de limón, 2 de frutilla y 6 de chocolate.

Federico tiene 4 caramelos de menta, 3 de cereza y 8 de limón.

¿Quién tiene más caramelos?



Respuesta:-----



Marcos tenía 10 globos y se le pincharon 4.  
Martina tenía 7 globos y se le pincharon 3.  
¿A cuál de los dos le quedaron más globos inflados?



Respuestas:-----



**Descubriendo Números**

- Mirá con atención los cartones que tiene cada uno de estos chicos.
- Responde las preguntas escribiendo "Sí o No".



3	14	7	26	42
6	19	31	29	31
9	24	28	43	17

2	12	10	25	46
1	19	18	34	41
8	23	21	35	40

¿Es cierto que el número 19 se repite en los dos cartones?

**Ciro**



¿Es cierto que en mi cartón el número más chico es el 1?

**Alma**



B)-Ordeno de mayor a menor.

**71**

**18**

**42**

**62**

**15**

C)- Anterior y posterior:

-----70:-----

-----63:-----

-----26:-----

-----15:-----

-----18:-----

D)- Salto de 2 en 2.

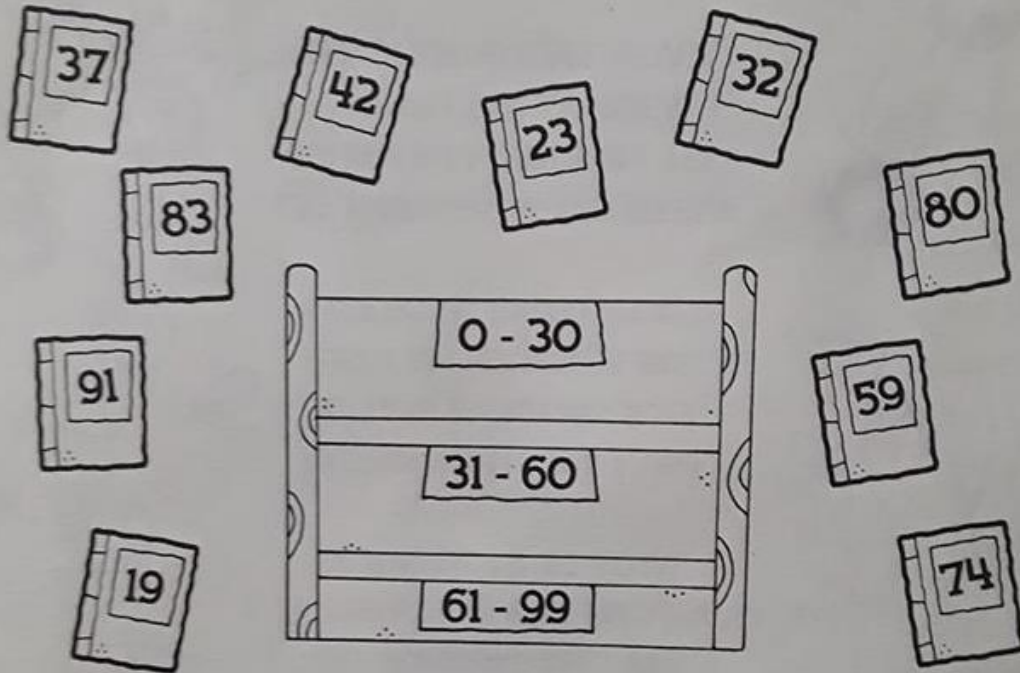
<b>20</b>	<b>22</b>				
-----------	-----------	--	--	--	--

<b>42</b>	<b>44</b>				
-----------	-----------	--	--	--	--



## Vamos a la biblioteca

● **Mirá** el número que le corresponde a cada libro y **ayudá** a la bibliotecaria a ordenarlo en el estante correcto. **Unilos** con una → .



● **Escribí** los números anterior y posterior para que estos libros queden ordenados.







Colegio  
**San Luis Rey**

Uno con flechas.



1960

2020

Sesenta y seis

80

Cuarenta y dos

66

Treinta y tres

42

Ochenta

33

Descomponer en unidades y decenas.

$$13 = \underbrace{00000000000000000000}_{1 \text{ D}} \rightarrow 3 \text{ U}$$

1 D

D	U

**15=**

**17=**

**26=**

**20=**

**9=**



Colegio  
**San Luis Rey**

